

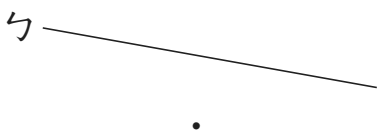
| | |
|--|---------------------|
| 3. $480 \times 13 \div 24$ | 4. $9915 - 89 - 11$ |
| 5. $560000 \div 18200$ <p style="text-align: center;">驗算：</p> | |

七、應用題：每題 4 分，共 20 分

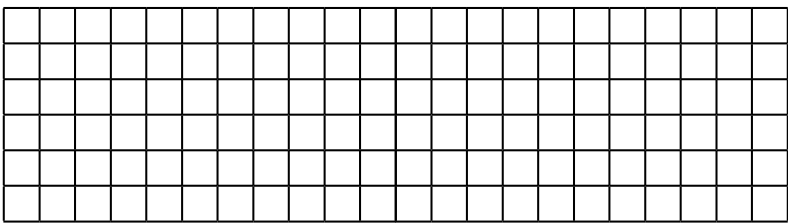
- 百貨公司週年慶消費滿 3000 元現折扣 300 元。
思文買了一個電動按摩器 1280 元和一雙球鞋 2300 元，思文要付多少元？(請列出一個算式計算)
- 四年忠班舉辦同樂會，老師買了 13 瓶果汁，一瓶果汁 1.15 公升，同學們共喝了 13.85 公升，請問果汁還剩下多少公升？

五、畫畫看(第一題 3 分，第二題 6 分，共 9 分)

- 畫出一條通過 \cdot 點，且和 \sphericalangle 線互相平行的直線。

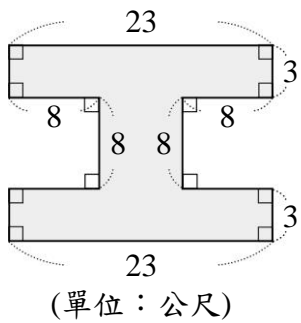


- 在下面方格紙中，分別畫出 1 個平行四邊形和 1 個梯形。

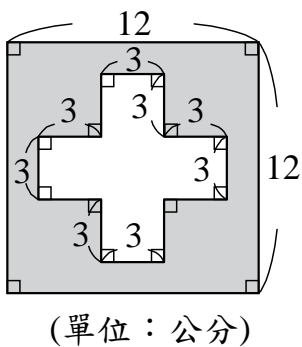


六、算出圖形的面積(每題 3 分，共 6 分)

1.



2.



- 杰升有一個長方形的菜園，長 3200 公分，寬 1800 公分，請問這個菜園的周長是多少公分？面積是多少平方公尺？
- 成德國小四年級運動會團競需使用彩球道具，學生每人需兩顆彩球，四年級共有 340 位學生，已知彩球道具總費用是 10200 元，請問一顆彩球是多少元？